

تعرفنا سابقا على الأليات المتدخلة في انتقال الصفات الوراثية والقوانين الإحصائية المتكيفة فيها، لكن كل ذلك تم على كائنات حية خاصة في حين أن دراسة الوراثة عند الإنسان وسائل دراسة الوراثة عند الإنسان الوراثية عبر العائلات وكذا تشخيصها قبل الولادة، فمهامي الصعوبات التي تواجه علم الوراثة البشرية ومهامي الوسائل المعتمدة في دراسته؟

الأسناد

Les arbres généalogiques = شجرات النسب

الوثيقة 1

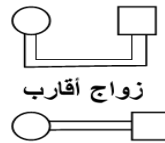
يمكن تتبع نقل بعض الصفات والأمراض عبر أجيال سلالة عائلة وكذلك احتمال انتقال هذه الصفات للأجيال الموالية وذلك بإتجاز ما يسمى شجرة النسب، وهي رسم بياني يبين جميع الأحداث العائلية من زواج وإنجاب وظهور أو عدم ظهور الصفة الوراثية المدروسة عند السلف والخلف (الآباء والأبناء). حيث ترمز للإناث بدائرة والذكور بمربع وتلون هذه الرموز بالأسود إذا كان الفرد يحمل الصفة المدروسة. وتتركه فارغا إذا كان الفرد لا يحمل هذه الصفة. نضع أفراد الجيل الواحد على نفس الخط من الأكبر على اليسار إلى الأصغر على اليمين بالنسبة لكل زوج. (أنظر الوثيقة 1).

الوثيقة 1: الرموز المستعملة لإتجاز شجرة النسب

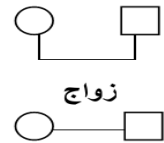
فرد ناقل للمرض \odot
حميل \diamond
I , II , III = أرقام الأجيال
1 , 2 , 3 = أرقام الأفراد

أفراد مصابون بالمرض المدروس

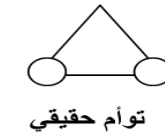
رجل \square
امرأة \circ
سليمون



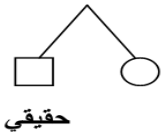
زواج أقارب



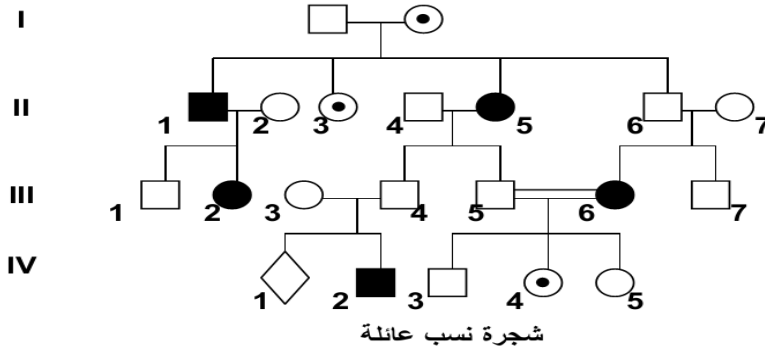
زواج



توأم حقيقي



حقيقي

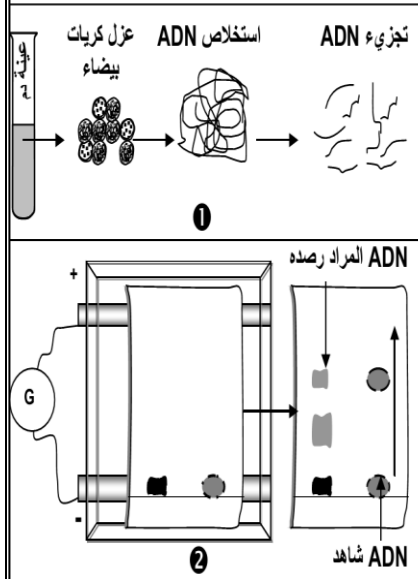


شجرة نسب عائلة

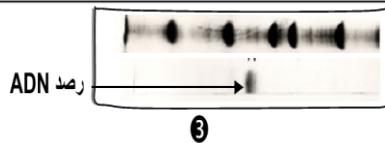
الخرائط الصبغية Les cartes chromosomiques

الوثيقة 2

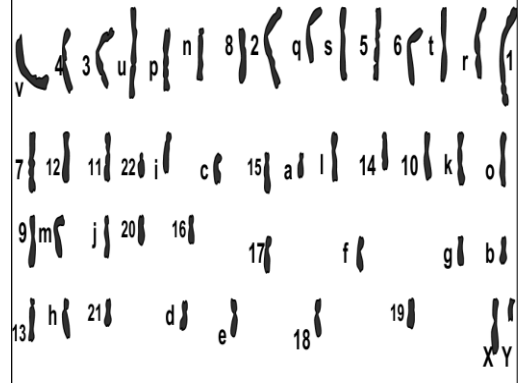
الوثيقة 3 تحليل الـ ADN



1 نغزل ADN من خلايا الشخص المختبر ونعالجها بأنزيمات فصل نوعية، ونضع خليط القطع المحصلة في حفر أنجزت في غراء يسمى Agarose.
2 نخضع الغراء لمجال كهربائي: بما أن قطع ADN ذات شحنة سالبة فإنها تهاجر نحو القطب الموجب بسرعة تتناسب وقدها، فنتنشر منفصلة بعضها عن بعض، لنحصل على قطع يمكن تحديد قدها بمقارنتها بمواقع قطع أخرى معروفة القد (قطع عيار).
3 نرصد متتالية معينة تنتمي للمورثة ب:
• معالجة قطع ADN لفصل لولبيها.
• إضافة قطع ADN مشعة ومتكاملة مع متتالية ADN التي نبحث عنها، حيث تشكل معها ADN هجين يسهل رصده بالتصوير الإشعاعي الذاتي.

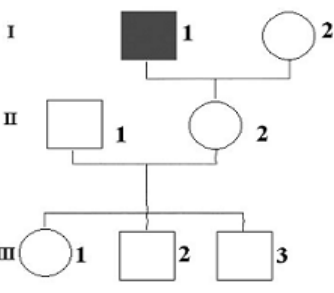


رصد ADN



تعتمد تقنية أنجاز الخريطة الصبغية على تصوير صبغيات إحدى خلايا الشخص الخاضع للفحص وترتيبها حسب القد والشكل وموقع الجزيء المركزي 100، أنظر الوثيقة أمامه. ويمكن تحليل الخريطة الصبغية من الكشف عن حالات الشذوذ الصبغية، ومن تشخيص التشوهات المرتبطة بتغيير عدد أو شكل الصبغيات. قطع صبغيات الخريطة الصبغية أمامه، ثم رتبها على شكل أزواج.

التعليمات



وثيقة 1

تمثل الوثيقة 1 شجرة نسب عائلة بعض أفرادها مصابون بمرض الناعورية (Hémophilie) الذي يتميز بعدم تخثر الدم نتيجة غياب عامل التخثر IX الذي تتحكم في تركيبه مورثة محمولة على الصبغي الجنسي X.
1- حدد هل التحليل المسؤول عن المرض سائد أم متنحي. علل إجابتك.
2- أعط الأنماط الوراثية للأفراد I1 و I2 و III3 (استعمل الرمزين H أو h).

تقدم الوثيقة 2 نتيجة تحليل مخبري لـ ADN مختلف أفراد العائلة الممثلة في الوثيقة 1.
3- ماذا تستخلص من نتائج تحليل ADN الطفل III3؟



وثيقة 2

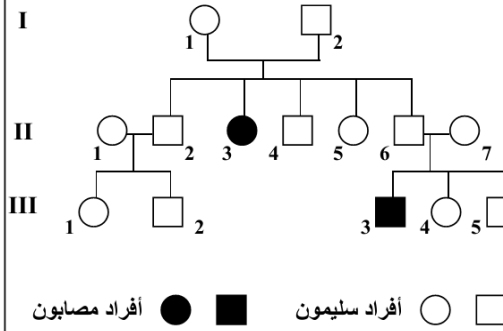
تحليل عادي \square تحليل مريض \blacksquare تمرين

1. انطلاقا من مكتسباتك السابقة، اذكر الصعوبات التي تواجه دراسة الوراثة عن الإنسان.
2. من خلال تحليل معطيات الوثيقة 1 أعلاه، استنتج ما يمكن ان تكشف عنه شجرة النسب الأصل الوراثي للأمراض الوراثية عند الإنسان.
3. أجب على السؤالين 1 و 2 من التمرين جانبه.
4. انطلاقا من معطيات الوثيقة 2 أعلاه ومكتسباتك، حدد أهمية الخريطة الصبغية في الكشف عن الأمراض الوراثية عند الإنسان.
5. انطلاقا من معطيات الوثيقة 3 أعلاه ومكتسباتك، حدد أهمية تحليل ADN في الكشف عن الأمراض الوراثية عند الإنسان.
6. أجب على السؤال 3 من التمرين جانبه.

تنتشر بين كثير من العائلات أمراض وراثية لا تميز بين الذكور والإناث مما يعني أنها غير مرتبطة بالصبغيات الجنسية. تقدم الوثائق التالية دراسة بعض من تلك الأمراض.

مستعينا بمعطيات شجرة النسب:

- هل الحليل المسؤول عن المرض سائد أم متنحي؟ علل إجابتك.
- هل هناك دليل على أن الحليل المسؤول عن المرض غير مرتبط بالصبغيات الجنسية؟ اذكره.
- استنتج معللا إجابتك الأنماط الوراثية للأفراد: I1 و I2 و I3 مستعملا N أو n للحليل العادي و M أو m للحليل الممرض.

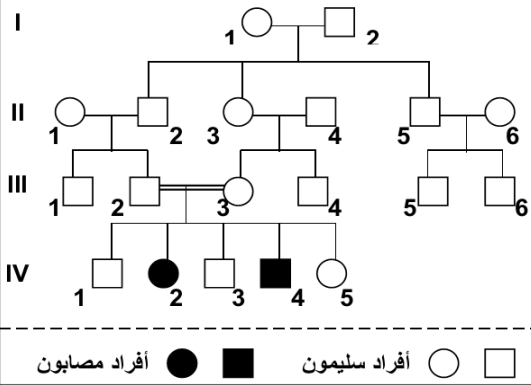


الوثيقة 1

مرض **Mucoviscidose** مرض وراثي يتميز باضطرابات هضمية وتنفسية، تسببها إفرازات لزجة للغدد المخاطية، الشيء الذي يؤدي إلى انسداد في القنوات الناقلة للعصارة البنكرياسية، وبالتالي اضطرابات في الوظيفة الهضمية للبنكرياس: كما يؤدي إلى انسداد الشعبات الرئوية، فيسبب ذلك عسر تنفسي والإصابة بالتهنفتات. تعطي الوثيقة أمامه شجرة نسب عائلة بعض أفرادها مصابون بهذا المرض.

مستعينا بمعطيات شجرة النسب:

- هل الحليل المسؤول عن المرض سائد أم متنحي؟ علل إجابتك.
- هل الحليل المسؤول عن المرض غير مرتبط بالصبغيات الجنسية؟ علل إجابتك.
- استنتج العامل الذي ساعد على ظهور المرض وبين كيف ذلك مستعملا B أو b للحليل العادي و T أو t للحليل الممرض.

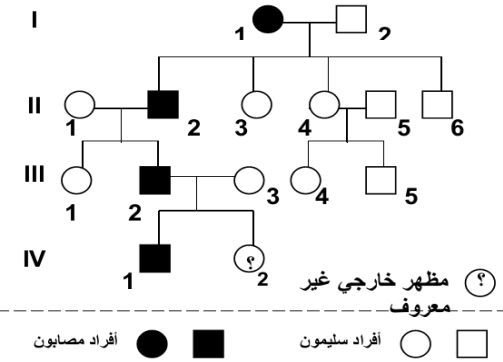


الوثيقة 2

فقر الدم المتوسطي التلاسيميا (**Thalassémie**) مرض وراثي منتشر على الخصوص في بعض الدول المطلة على البحر الأبيض المتوسط. يتميز هذا المرض بفقر دم حاد ناتج عن تدمير تدريجي للكريات الحمراء الدموية، ويرجع سببه إلى خلل في تركيب جزيئات الخضاب الدموي الذي يلعب دورا أساسيا في نقل الغازات التنفسية. يولد المصاب بمرض التلاسيميا نتيجة الزواج بين ناقلين للمرض (عندما يكون الزوج والزوجة كلاهما حاملين للمرض). الشخص الناقل للمرض لا تظهر عليه أي أعراض ظاهرة ولكن يمكن تشخيصه بالتحاليل الطبية. تعطي الوثيقة أمامه شجرة نسب عائلة تظهر المرض.

مستعينا بمعطيات شجرة النسب:

- حدد كيفية انتقال مرض هنتنغتون عند هذه العائلة (الحليل الممرض سائد أم متنحي، مرتبط بالصبغيات الجنسية أم لا) واعط معللا إجابتك الأنماط الوراثية المحتملة للأفراد I1 و I2 و II2 و II3 و III3 مستعملا N أو n للحليل العادي و H أو h للحليل الممرض.
- حدد معللا إجابتك احتمال (النسبة المئوية) ظهور المرض لدى الطفل IV2.

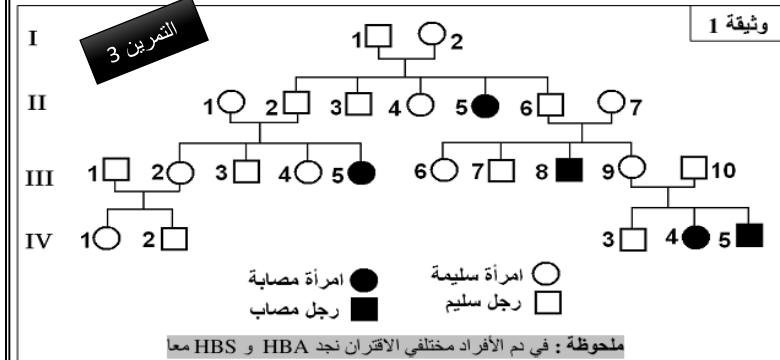


الوثيقة 3

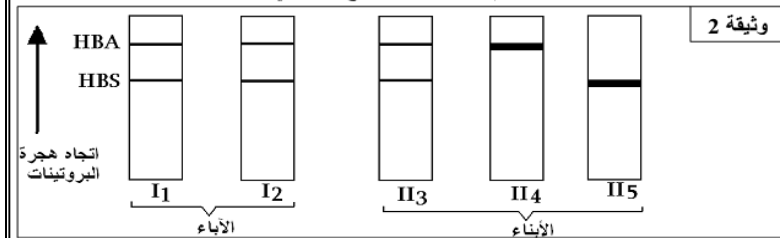
مرض هنتنغتون **Huntington** هو مرض عقلي وراثي يؤثر في وظيفة الدماغ، يظهر عموما ما بين 30 و 45 سنة، تتجلى أهم أعراض هذا المرض في اضطرابات حركية ونفسية، حيث يصاب مريض داء هنتنغتون بالخرف، وفقد الذاكرة. وصف المرض لأول مرة سنة 1872 على يد الطبيب الأمريكي هذا الاسم **George** ومن هنا اكتسب المرض هذا الاسم. يرتبط ظهور هذا المرض بمورثة سائدة محمولة على صبغي لا جنسي. وتبين الوثيقة أمامه شجرة نسب عائلة بعض أفرادها مصابون بهذا المرض.

تمارين للتدريب

يعتبر فقر الدم المنجلي عند الإنسان مرضا ناجما عن طفرة على مستوى المورثة المتحكم في إنتاج الخضاب الدموي، مما يؤدي إلى تشوه الكريات الدموية الحمراء. توجد هذه المورثة في شكل عدة حليلات من بينها الحليل HBA الذي يتحكم في تركيب خضاب دموي عادي، والحليل HBS المسؤول عن تركيب خضاب دموي غير عادي. يتميز الأشخاص مختلوا الاقتران بخضاب دموي عادي وخضاب دموي غير عادي، في حين يموت الأشخاص متشابهو الاقتران بالنسبة لهذا المرض مبكرا قبل خمس سنوات. تمثل الوثيقة 1 شجرة نسب عائلة إفريقية يعاني بعض أفرادها من هذا المرض.

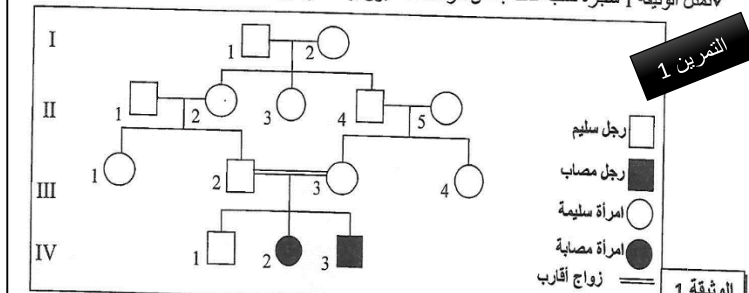


- حدد كيفية انتقال مرض فقر الدم المنجلي عند هذه العائلة وأعط، معللا إجابتك، الأنماط الوراثية المحتملة للأفراد I1 و I2 و II3 و II4 و II5 و II6 و II7 و III3 و III4 و III5 و III6 و III7 و III8 و III9 و III10 و IV2 و IV3 و IV4 و IV5 و IV6 و IV7 و IV8 و IV9 و IV10 مستعملا A و a للحليل العادي و B و b للحليل الممرض.
- حدد معللا إجابتك احتمال (النسبة المئوية) ظهور المرض لدى الطفل IV2.



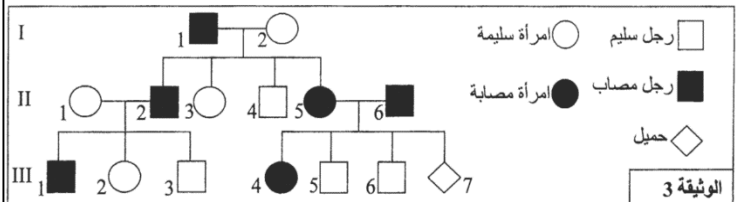
- بين كيف يمكن هذه النتائج من التأكد من الأنماط الوراثية للأفراد المشار إليهم في السؤال 1. (2 ن)

يصاب بعض الأشخاص بالمهق، وهو مرض وراثي نادر ينجم عن خلل في تركيب صبغة الميلانين، وهي مادة ملونة للبشرة والشعر عند الإنسان. لتحديد الأصل الوراثي لهذا المرض وفهم كيفية انتقاله، نقتراح المعطيات الآتية: تمثل الوثيقة 1 شجرة نسب عائلة بعض أفرادها مصابون بهذا المرض.



- حدد، معللا إجابتك، كيفية انتقال هذا المرض بالاعتماد على الوثيقة 1. (1 ن)
- أ - أعط النمط الوراثي أو الأنماط الوراثية الممكنة للأفراد III3 و III4 و III5 و III6 و III7 و III8 و III9 و III10 و IV1 و IV2 و IV3 و IV4 و IV5 و IV6 و IV7 و IV8 و IV9 و IV10 مستعمل الرمزين A و a للتعبير عن حليلي المورثة المدروسة). (1 ن)
- ب - بالاعتماد على شبكة التزاوج، حدد احتمال إنجاب الزوجين III3 و III4 مولودا مصابا بالمهق، ثم استنتج العامل الذي ساعد على ظهور المرض في الجيل IV. (1 ن)

II. تمثل الوثيقة 3 شجرة نسب عائلة بعض أفرادها مصابون بمرض الودانة.



- بين، معللا إجابتك، أن مرض الودانة سائد، وغير مرتبط بالجنس. (1 ن)
- أرسم للحليل العادي بـ B و A و a وللحليل الممرض بـ B و b (b) ينتظر الزوجان II3 و II6 مولودا جديدا III7. (1 ن)
- حدد احتمال إصابة هذا المولود بالمرض معللا ذلك باستعمال شبكة التزاوج. (1 ن)

تظهر بعض الأمراض الوراثية بنسب متفاوتة حسب الجنس، ومن بينها ما يقتصر فقط على الذكور، تدعى هذه الأمراض بالأمراض الوراثية المرتبطة بالجنس فكيف تنتقل تلك الأمراض بين الأجيال؟ تقدم الوثائق التالية معطيات حول بعض الأمراض الوراثية المرتبطة بالصيغيات الجنسية:

الوثيقة 1

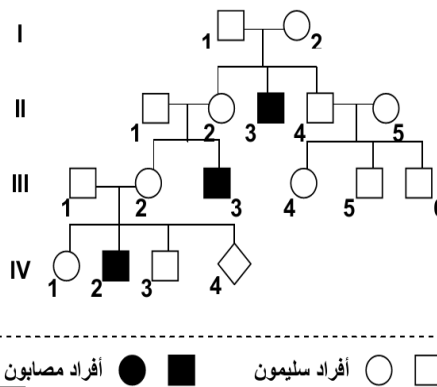
تعتبر الدلتونية **Daltonisme** شذوذاً بهم إحصاء الألوان، إذ أن الشخص المصاب لا يميز بين الأحمر والأخضر. نقرح تتبع انتقال هذا المرض عند عائلة معينة.

تزوج رجل سليم من الدلتونية (I₁) بامرأة سليمة من هذا العيب (I₂)، فأنجبا ولدين و بنت (II₁ مصاب بالدلتونية، وولد II₂ سليم من الدلتونية، و بنت II₃ سليمة من الدلتونية).

تزوجت البنت II₃ برجل II₄ مصاب بالدلتونية، فأنجبا: ولدين سليمين من الدلتونية III₁ و III₂، و بنت مصابة بالدلتونية III₃.

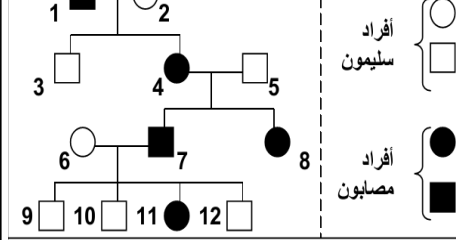
الهزال العضلي لـ **Duchenne** مرض يصيب بعض الأطفال، حيث يلاحظ ضمور وانحلال تدريجي لعضلاتهم التي تصبح غير قادرة على تأمين الحركة والتنفس.

تعطي الوثيقة أمامه شجرة نسب عائلة أصيب بعض أفرادها بمرض الهزال العضلي لـ **Duchenne**.



الوثيقة 2

مرض الكساح المقاوم للفيتامين **Le Rachitisme Vitamino-résistant** مرض وراثي يؤدي إلى تشوه عظام الأطراف السفلية، نتيجة تكلس رديء للعظام. وهذا المرض لا يمكن علاجه بواسطة الحقن العادية من فيتامين D فهو مرض مقاوم للفيتامين. وتبين الوثيقة أسفله شجرة نسب عائلة، بعض أفرادها مصابون بالكساح المقاوم للفيتامين .



الوثيقة 3

1. من خلال معطيات الوثيقة، انجز شجرة النسب لهذه العائلة.
2. استخراج من معطيات الوثيقة ما يدل على أن الحليل المسؤول عن المرض متنحي.
3. علما الحليل المسؤول عن المرض محمول على الصبغي الجنسي X وباستغلال المعطيات السابقة، استنتج معللا إجابتك الأنماط الوراثية للأفراد I₁ و I₂ و II₂ و II₃. استعمل D للحليل السائد و d للحليل المتنحي.

مستعينا بمعطيات شجرة النسب:

1. استخراج ما يدل على الحليل المسؤول عن المرض محمول على الصبغي الجنسي X.
2. هل الحليل المسؤول عن المرض سائد أم متنحي؟ علل إجابتك.
3. اعط معللا إجابتك الأنماط الوراثية المحتملة للأفراد I₁ و I₂ و II₂ و II₃ و III₃ و III₄ مستعملا N أو n للحليل العادي و D أو d للحليل الممرض.
4. حدد معللا إجابتك احتمال ظهور المرض لدى الطفل IV₄.

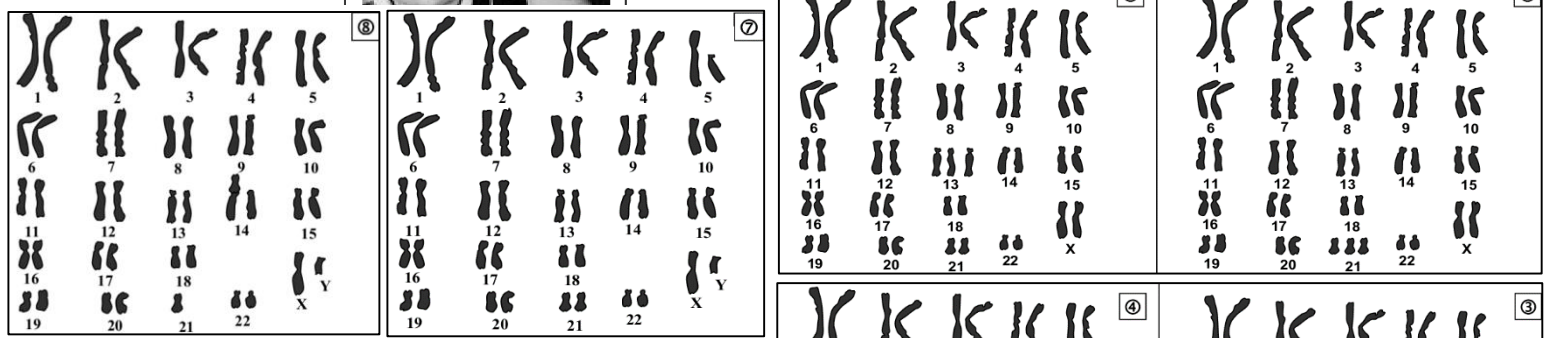

مستعينا بمعطيات شجرة النسب:

1. فسر كيفية انتقال مرض الكساح المقاوم للفيتامين عند هذه العائلة (الحليل الممرض سائد أم متنحي، مرتبط بالصيغيات الجنسية أم لا)
2. اعط معللا إجابتك الأنماط الوراثية المحتملة للأفراد 2 و 3 و 4 و 6 و 11 و 9 مستعملا N أو n للحليل العادي و R أو r للحليل الممرض.
3. حدد معللا إجابتك الإناث الناقلات للمرض داخل العائلة.
4. اذا تزوجت البنت 8 من شخص سليم، ما هو احتمال ان ينجب طفل مريض؟ علل إجابتك.

النشاط 4: الشذوذات الصبغية عند الإنسان وعواقبها

ينجب بعض الآباء السليمون في حالات نادرة أطفالا مصابين بأمراض ترتبط بخلل في عدد أو بنية الصيغيات تسمى الشذوذات الصبغية فماهي أنواعها؟ وما أصلها وعواقبها؟

تعطي الوثائق ①، ②، ③، ④، ⑤، ⑥، ⑦، ⑧، خرائط صبغية لحالات مختلفة من الشذوذات الصبغية (1) تعرف على هذه الحالات وعلى خصائص كل منها. (2) انطلاقا من هذه الوثائق أتمم جدول الوثيقة (3) بواسطة رسوم تخطيطية أعط التاويل الصبغي لحالة الشذوذ الممثلة على هذه الخرائط الصبغية.



الخريطة الصبغية	عدد الصيغيات	اسم الشذوذ	تردد الشذوذ	المظهر الخارجي
الخريطة ①	21	منغولية أو تثلث الصبغي 21 أو مرض DOWN	18 / 10000	تأخر عقلي، قصر القامة، وجه ذو تقاسيم مميزة، يدين بأصابع قصيرة مع وجود طية وحيدة عرضية، تشوهات داخلية (القلب، الأوعية، الأمعاء...)
الخريطة ②	13	ثلاثي الصبغي 13	1 / 10000	غياب الفاصل البيمنفري، شفة علوية مفتوحة، سداسي الأصابع.
الخريطة ③	Turner	أعراض مرض Turner	4 / 10000	مظهر أنثوي، غياب المبيضين أو ضمورهما، عقم...
الخريطة ④	Klinefelter	أعراض مرض Klinefelter	2 / 1000	مظهر أنثوي ذكري، خصيتان ضامرتان، غياب تشكل النطاف، ثديان ناميان.
الخريطة ⑤	X	ثلاثي الصبغي X	1 / 1000	مظهر أنثوي عادي، قامة شينا ما طويلة، قدرات ذهنية عادية، خصوبة عالية.
الخريطة ⑥	XYY	ثلاثي الصبغي XYY	2 / 1000	رجل عادي المظهر، بخصوبة عالية.
الخريطة ⑦	صياح لفظة	صياح لفظة	1 / 40000	تأخر عقلي حاد، تشوهات جسمية خصوصا على مستوى الخنجر.

في حالة التخوف من إنجاب طفل مصاب بشذوذ صبغي بسبب إنجاب طفل أول مصاب أو لوجود المرض في العائلة أو بسبب التقدم في السن، يمكن للأبوين إجراء التشخيص قبل الولادة فماهي التقنيات المعتمدة في تشخيص الشذوذات الصبغية عند الإنسان قبل الولادة؟

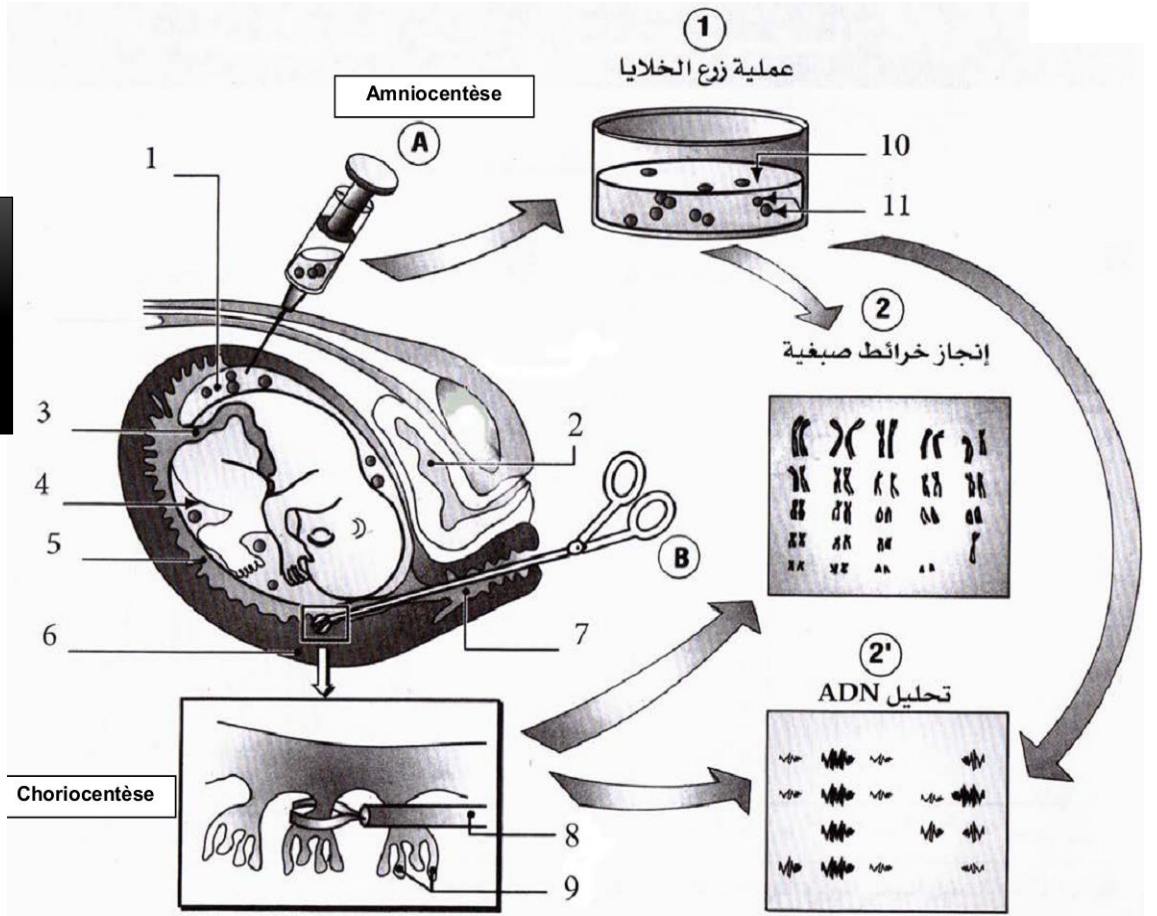
الوثيقة 1 : الكشف عن الإصابة بمرض Down عند الحمل بواسطة التصوير بالصدى الصوتي: الشكل 1: علامات مميزة عند الحمل المصاب بمرض Down (وجه مسطح، عنق عريض...) هذه العلامات لا تلاحظ عادة عند الحمل العادي (الشكل 2).



1. من خلال معطيات الوثيقة 1، أبرز أهمية التصوير بالصدى الصوتي في الكشف عن مرض Down. هل ترى أن التصوير بالصدى الصوتي كاف للكشف عن المرض؟ إذا كان غير كاف فما التشخيص الذي تقترحه للكشف عن مرض Down؟

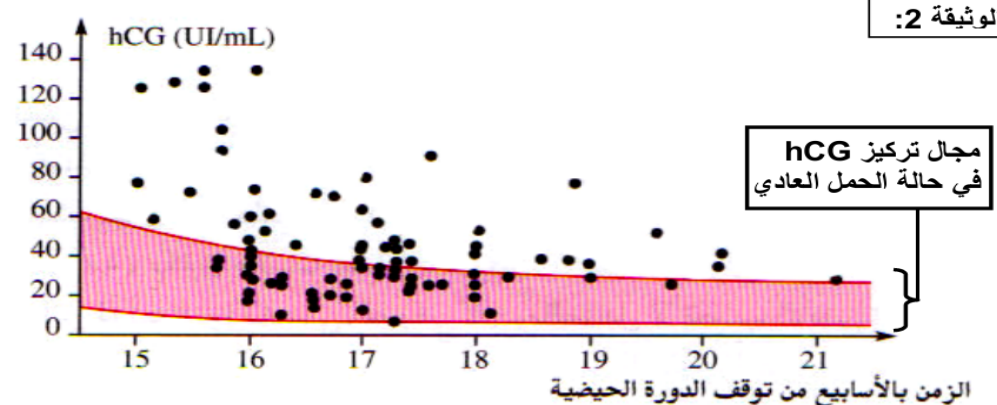
الوثيقة 2 : تقنية **Amniocentèse** وتقنية **Choriocentèse**. (فحص السائل السلوي والزغابات الجنينية). يمكن الكشف عن الشذوذات الصبغية عند الجنين أثناء الحمل إما :

- باختبار السائل السلوي بعد 15 إلى 17 أسبوع من توقف الدورة الحيضية.
- باختبار دم الحبل السري بعد الأسبوع 20 من توقف الدورة الحيضية.
- اقتلاع زغابات جنينية وتحليلها، انطلاقا من الأسبوع التاسع للحمل.



3. من خلال معطيات الوثيقة 2، بين كيف تمكن تقنيتي amniocentèse و Choriocentèse من الكشف عن الشذوذ الصبغي عند الجنين.

الوثيقة 3 : بينت تحاليل الدم عند الأمهات الحوامل بأجنة مصابة بمرض Down (ثلاثي الصبغي 21)، وجود تركيز كبير من هرمون **hCG** (human Chorionic Gonadotropin)، وبروتين **AFP** (alpha-fœtoprotéine) = بروتين يركبه الحمل.



تسمى هذه المواد الموجودة بالمصل بالواسمات المصلية **Marqueurs sériques**. تبين الوثيقة أمامه التركيز البلازمي لهرمون **hCG** حسب مدة الحمل عند 86 حالة أصيب فيها الجنين بمرض Down.

4. من خلال معطيات الوثيقة 3، بين كيف تمكن تقنية تحليل دم المرأة الحامل من تدعيم نتائج تقنية الفحص بالصدى.